
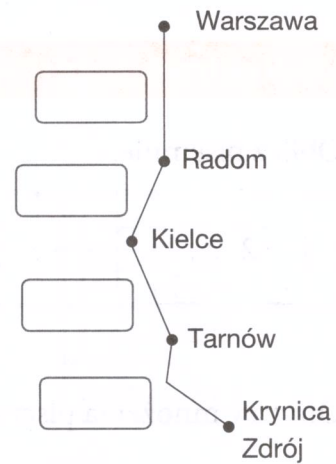





- 3 Na rysunku przedstawiono trasę autobusu z Warszawy do Krynicy Zdroju. Oblicz długości kolejnych odcinków trasy na podstawie danych z tabeli.


Odległość od Warszawy	Miejscowość	Godzina
	Warszawa	21:50
110 km	Radom	23:30
185 km	Kielce	01:00
234 km	Busko Zdrój	01:55
296 km	Tarnów	03:25
362 km	Nowy Sącz	04:55
395 km	Krynica Zdrój	05:40



 **Dobra rada**

W dodawaniu i odejmowaniu pisemnym starannie podpisuj liczby jedna pod drugą.

- 4 Rozwiąż krzyżówkę liczbową.



$52\ 009 - 19\ 750$        $2648 + 8173$   
 $36\ 088 + 2053$  →      ↓      ↓  
 $2807 - 124$  →      ↓      ↓  
 $6007 - 26$  →      ↓      ↓