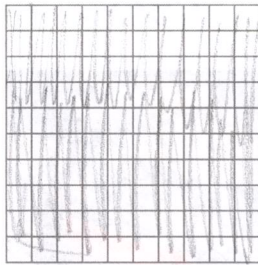





Jeśli potrzebujesz rozgrzewki

1 Pomaluj odpowiednią część każdego kwadratu.



100%,
czyli całość



50%,
czyli połowa




25%,
czyli ćwierć



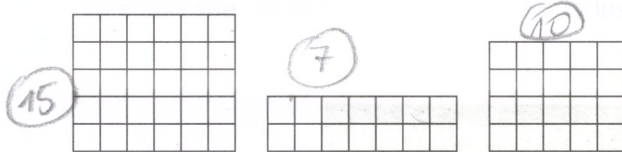
10%,
czyli $\frac{1}{10}$

2 Zamaluj:

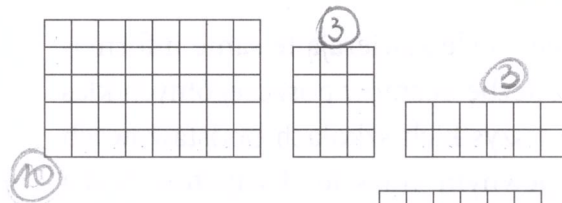
- 100% kratek w każdym prostokącie,



- 50% kratek w każdym prostokącie,




- 25% kratek w każdym prostokącie,




- 10% kratek w każdym prostokącie.




3 Uzupełnij podpisy.



70% 30 %




91% 9 %



28% 72 %

4 Pomaluj:

- 50% kubków na zielono, (10)
- 25% kubków na niebiesko, (5)
- 10% kubków na czerwono, (2)
- 10% kubków na żółto. [2]

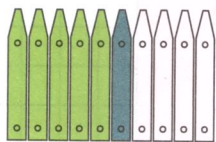


Jaki procent stanowią pomalowane kubki? 95%

Jaki procent kubków został niepomalowany? 5%

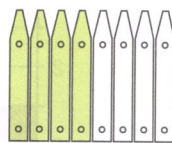
5 Jaki procent płotu pomalowano na poszczególne kolory? Jaki procent został niepomalowany? Zapisz odpowiedzi pod rysunkiem.

a)



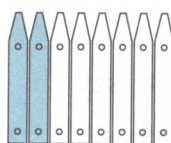
50% 10% 40%

b)



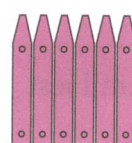
50% 50%

c)



25% 75%

d)



100%

6 Uzupełnij opisy.

